


Dico-maths A Comparaison de longueurs



Avec cette bande de papier, je vois que la **bande verte** est **plus longue** que la **bande bleue**.

Dico-maths B Opérations sur les longueurs



La longueur de la **bande rouge** est **le double** de la longueur de la **bande bleue**.





La longueur de la **bande bleue** est **la moitié** de la longueur de la **bande rouge**.

Je fais le bilan

Date : _____

Utilise la bande **rose** de ton cahier.

1 Colorie en **bleu** la bande qui a la même longueur que la bande **jaune**.



Utilise des bandes **rouges**, **vertes** ou **bleues**.

2 Le chemin d'Arthur est **plus long** que celui de Zoé.

La longueur du chemin de Gribouille est **la moitié** de celle du chemin de Zoé.

Colle une ou plusieurs bandes pour faire les chemins d'Arthur et de Gribouille.

